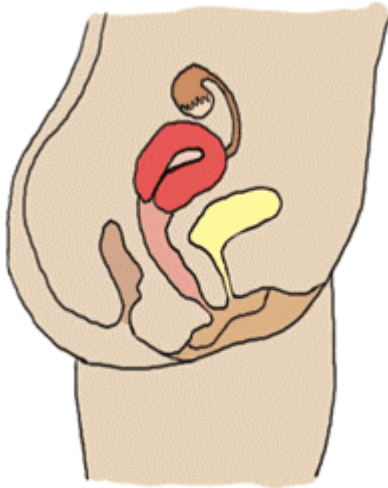
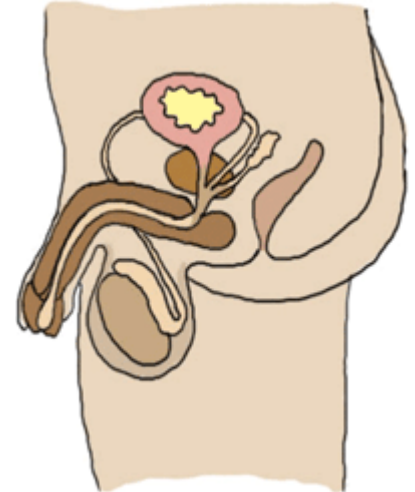


Frau oder Mann


- ✎ Male alle Begriffe der weiblichen Geschlechtsorgane rot und die der männlichen Geschlechtsorgane blau an.
- ✎ 2 Begriffe zählen eigentlich nicht zu den Geschlechtsorganen. Male sie gelb an!
- ✎ Ordne die Begriffe richtig zu und verbinde die Wörter zur richtigen Stelle in der Abbildung.



- Harnblase
- Eierstöcke
- Samenleiter
- Glied
- Schamlippen
- Gebärmutter
- Eileiter
- Hodensack
- Vorsteherdrüse (Prostata)
- Mastdarm



Während der Pubertät ändert sich der Körper! Entscheide, was sich bei Mädchen und was sich bei Jungen verändert. Trage dazu das passende Symbol ein.



		Achsel- und Schambehaarung wächst.
		Die Stimme verändert sich und es kommt zum Stimmbruch.
		Schweiß- und Talgdrüsen werden aktiver.
		Die Regelblutung setzt ein.
		Bart- und Körperbehaarung fangen an zu wachsen.
		Es kommt zum ersten Samenerguss, sodass weibliche Flüssigkeit aus dem Glied austritt.
		Brüste beginnen zu wachsen.
		Wachstumsschübe sind erkennbar.